

# MATEMATIKA

MAMZD13C0T04

## DIDAKTICKÝ TEST

**Maximální bodové hodnocení: 50 bodů**  
**Hranice úspěšnosti: 33 %**

### 1 Základní informace k zadání zkoušky

- Didaktický test obsahuje **26 úloh**.
- Časový limit pro řešení didaktického testu je **uveden na záznamovém archu**.
- **Povolené pomůcky:** psací a rýsovací potřeby, Matematické, fyzikální a chemické tabulky a kalkulačtor bez grafického režimu, bez řešení rovnic a úprav algebraických výrazů.
- U každé úlohy je uveden maximální počet bodů.
- Odpovědi píše do záznamového archu.
- Poznámky si můžete dělat do testového sešitu, nebudou však předmětem hodnocení.
- **Nejednoznačný nebo nečitelný zápis odpovědi bude považován za chybné řešení.**
- První část didaktického testu (úlohy 1–15) tvoří **úlohy otevřené**.
- Ve druhé části (úlohy 16–26) jsou uzavřené úlohy, které obsahují nabídku odpovědí. U každé úlohy nebo podúlohy je **právě jedna odpověď správná**.
- Za nesprávnou nebo neuvedenou odpověď se **neudělují záporné body**.

### 2 Pravidla správného zápisu odpovědí

- Odpovědi zaznamenávejte **modře nebo černě** písíčí propisovací tužkou, která píše **dostatečně silně a nepřerušovaně**.
- U úloh, kde budete rýsovat obyčejnou tužkou, následně obtáhněte čáry propisovací tužkou.
- Hodnoceny budou **pouze odpovědi uvedené v záznamovém archu**.

### 2.1 Pokyny k otevřeným úlohám

- Výsledky **píšte čitelně** do vyznačených bílých polí.

1



- Je-li požadován celý postup řešení, uveďte jej do záznamového archu. Pokud uvedete pouze výsledek, nebudou vám přiděleny žádné body.
- **Zápisy uvedené mimo** vyznačená bílá pole **nebudou hodnoceny**.
- Chybný zápis přeškrtněte a nově запиšte správné řešení.

### 2.2 Pokyny k uzavřeným úlohám

- Odpověď, kterou považujete za správnou, zřetelně zakřížkujte v příslušném bílém poli záznamového archu, a to přesně z rohu do rohu dle obrázku.

17 

A	B	C	D	E
<input type="checkbox"/>	<input type="checkbox"/>	<input checked="" type="checkbox"/>	<input type="checkbox"/>	<input type="checkbox"/>

- Pokud budete chtít následně zvolit jinou odpověď, zabarvete pečlivě původně zakřížkované pole a zvolenou odpověď vyznačte křížkem do nového pole.

17 

A	B	C	D	E
<input checked="" type="checkbox"/>	<input type="checkbox"/>	<input checked="" type="checkbox"/>	<input type="checkbox"/>	<input type="checkbox"/>

- Jakýkoliv jiný způsob záznamu odpovědi a jejich oprav bude považován za nesprávnou odpověď.
- Pokud zakřížkujete více než jedno pole, bude vaše odpověď považována za nesprávnou.

**TESTOVÝ SEŠIT NEOTVÍREJTE, POČKEJTE NA POKYN!**

**1 bod**

**1** Jsou dány množiny  $A = (-\infty; -1)$  a  $B = \langle -2; -1 \rangle$ .

**Zapište intervalem  $A \cup B$ .**

---

**1 bod**

**2** Zjednodušte a vyjádřete jako mocninu celého čísla:

$$\frac{(3 \cdot 5)^{60}}{5^{60}} \cdot 3^{120} =$$

**1 bod**

**3** Pro  $x, y \in \mathbb{R}$  rozložte na součin dvojčlenů:

$$25x^2 - 9y^4 =$$

max. 2 body

4 Pro  $a \in \mathbb{R} \setminus \{0,5; 1\}$  zjednodušte:

$$(a - 1) : \left( 2 - \frac{2}{2a - 1} \right) =$$

V záznamovém archu uveďte celý postup řešení.

---

max. 2 body

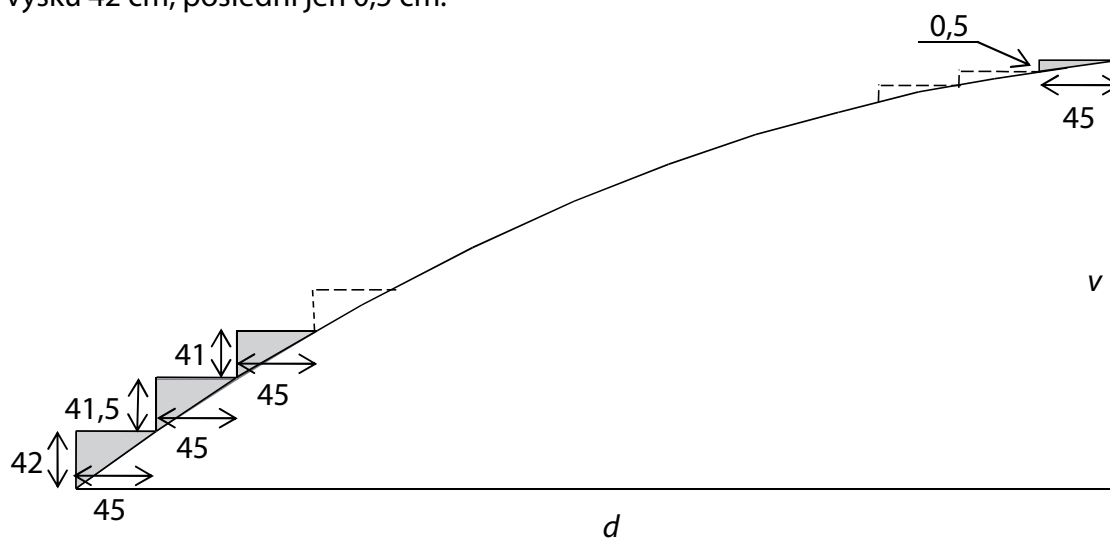
5 V oboru  $\mathbb{R}$  řešte:

$$2 \cdot \frac{3y}{5} = \frac{2y - 3}{2} + 1$$

V záznamovém archu uveďte celý postup řešení.

## VÝCHOZÍ TEXT A OBRÁZEK K ÚLOHÁM 6–7

V Kocourkově postavili schodiště na Kocouří vyhlídce. Všechny schody mají šířku 45 cm. Nejvyšší je první schod, každý následující schod je o 0,5 cm nižší. První schod má výšku 42 cm, poslední jen 0,5 cm.



Rozměry v obrázku jsou uvedeny v centimetrech.

(CERMAT)

1 bod

- 6 Vypočtěte v centimetrech, jakou vodorovnou vzdálenost  $d$  překonává schodiště na Kocouří vyhlídce.

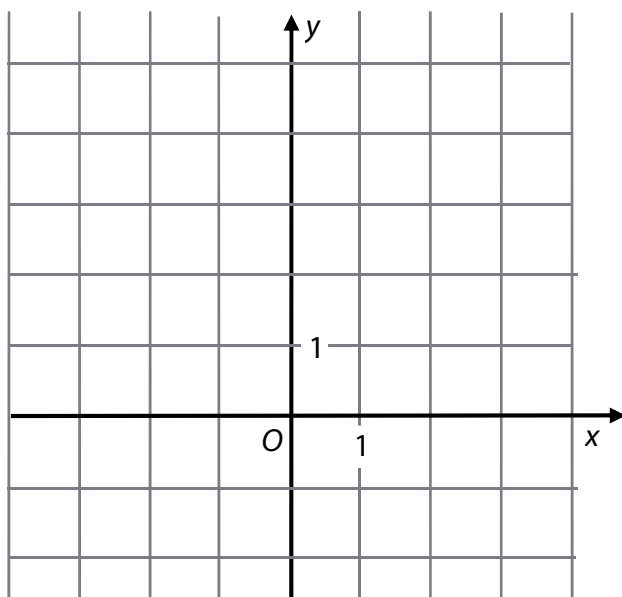
1 bod

- 7 Vypočtěte v centimetrech výšku  $v$  celého schodiště na Kocouří vyhlídce.

### VÝCHOZÍ TEXT A OBRÁZEK K ÚLOZE 8

Funkce  $f$  s reálnou proměnnou  $x$  má předpis:

$$y = (x - 1)(x - 3)$$



(CERMAT)

**max. 3 body**

**8**

8.1 Zapište souřadnice průsečíku  $Y[x; y]$  grafu funkce  $f$  se souřadnicovou osou  $y$ .

8.2 Sestrojte graf funkce  $f$ .

**V záznamovém archu** obtáhněte graf funkce **propisovací tužkou**.

### VÝCHOZÍ TABULKA K ÚLOZE 9

$x$	9	$3^6$	3	
$y = \log_3 x$	2			0

(CERMAT)

**1 bod**

**9 V tabulce doplňte chybějící hodnoty.**

max. 2 body

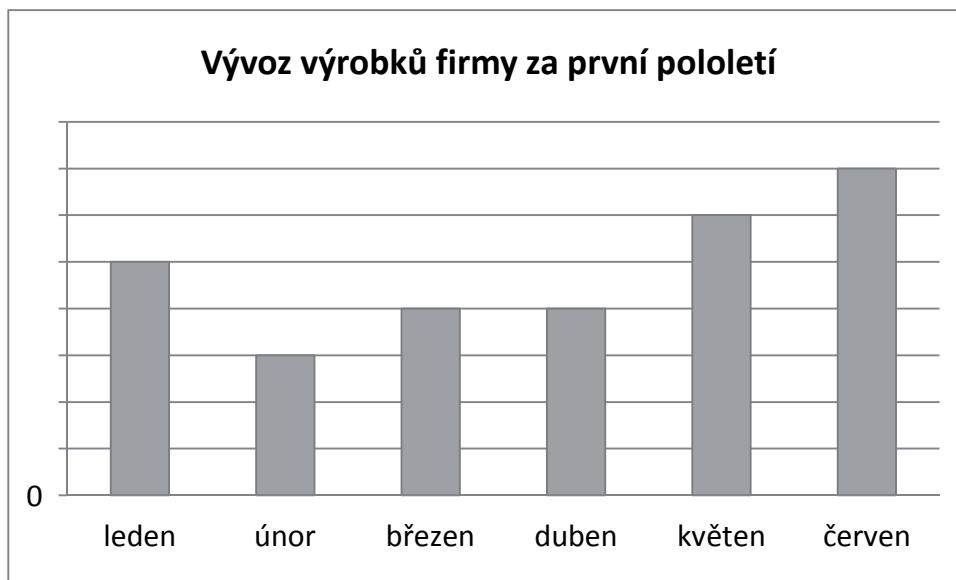
10 V oboru R řešte:

$$\frac{x}{2} = 1 + \frac{4}{x}$$

---

### VÝCHOZÍ TEXT A GRAF K ÚLOZE 11

Firma uvádí v reklamním letáku, že ve druhém čtvrtletí (duben až červen) vyvezla do zahraničí o 1 000 výrobků více než v prvním čtvrtletí. V květnu vyvezla dokonce dvakrát více výrobků než v únoru. Firma dokládá příznivý trend vývozu grafem.



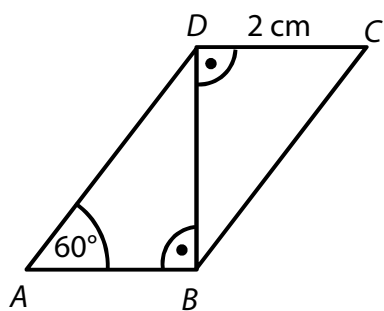
(CERMAT)

max. 2 body

11 Určete, kolik výrobků vyvezla firma v prvním čtvrtletí.

### VÝCHOZÍ TEXT A OBRÁZEK K ÚLOZE 12

Rovnoběžník  $ABCD$  rozděljuje úhlopříčka  $BD$  na dva shodné pravouhlé trojúhelníky.



(CERMAT)

max. 2 body

**12** Vypočtete obvod rovnoběžníku  $ABCD$ .

---

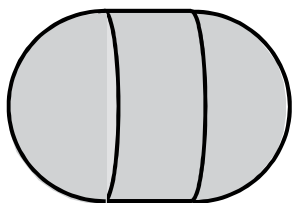
**13** Obsah jedné stěny krychle je  $0,16\text{ m}^2$ .

1 bod

**Vypočtete objem krychle.**

### VÝCHOZÍ TEXT A OBRÁZEK K ÚLOZE 14

Bóje na moři má tvar tělesa sestaveného z válce a dvou polokoulí. Výška válce, poloměr válce i poloměr každé z obou polokoulí je 18 cm.



(CERMAT)

**max. 2 body**

**14** Vypočtěte v  $\text{cm}^2$  povrch tělesa.

**V záznamovém archu** uveďte celý postup řešení.



### VÝCHOZÍ TEXT K ÚLOZE 15

Mošt se prodává v 5litrových a 2litrových lahvích. Pan Suchánek si koupil celkem 216 litrů moštu v 60 lahvích. (Všechny zakoupené lahve byly plné.)

(CERMAT)

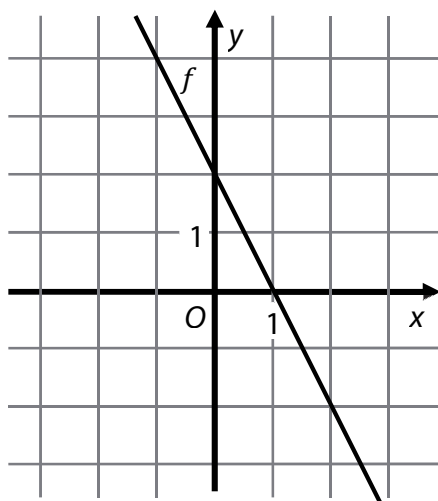
**max. 3 body**

**15** Užitím rovnice nebo soustavy rovnic **vypočtete, kolik litrů moštu si koupil pan Suchánek v 5litrových lahvích.**

**V záznamovém archu uveďte celý postup řešení.**

### VÝCHOZÍ TEXT A GRAF K ÚLOZE 16

V kartézské soustavě souřadnic  $Oxy$  je sestaven graf lineární funkce  $f$ , jejíž definiční obor je  $\mathbf{R}$ .



(CERMAT)

max. 2 body

**16** Rozhodněte o každém z následujících tvrzení (16.1–16.4), zda je pravdivé (ANO), či nikoli (NE).

- |  | A                        | N                        |
|--|--------------------------|--------------------------|
| 16.1 Funkce $f$ je konstantní.   | <input type="checkbox"/> | <input type="checkbox"/> |
| 16.2 Jeden z průsečíků grafu funkce $f$ se souřadnicovými osami je $P[1; 0]$ . | <input type="checkbox"/> | <input type="checkbox"/> |
| 16.3 $f(0) = 2$  | <input type="checkbox"/> | <input type="checkbox"/> |
| 16.4 Předpis funkce $f$ je $y = 2 - 2x$ .                                      | <input type="checkbox"/> | <input type="checkbox"/> |

### VÝCHOZÍ TEXT K ÚLOZE 17

Sklenice má tvar válce s vnitřním **průměrem** 12 cm, výška sklenice ode dna je 16 cm. Seříznutou špejli lze šikmo vložit do sklenice tak, že nepřečnívá přes okraj.

(CERMAT)

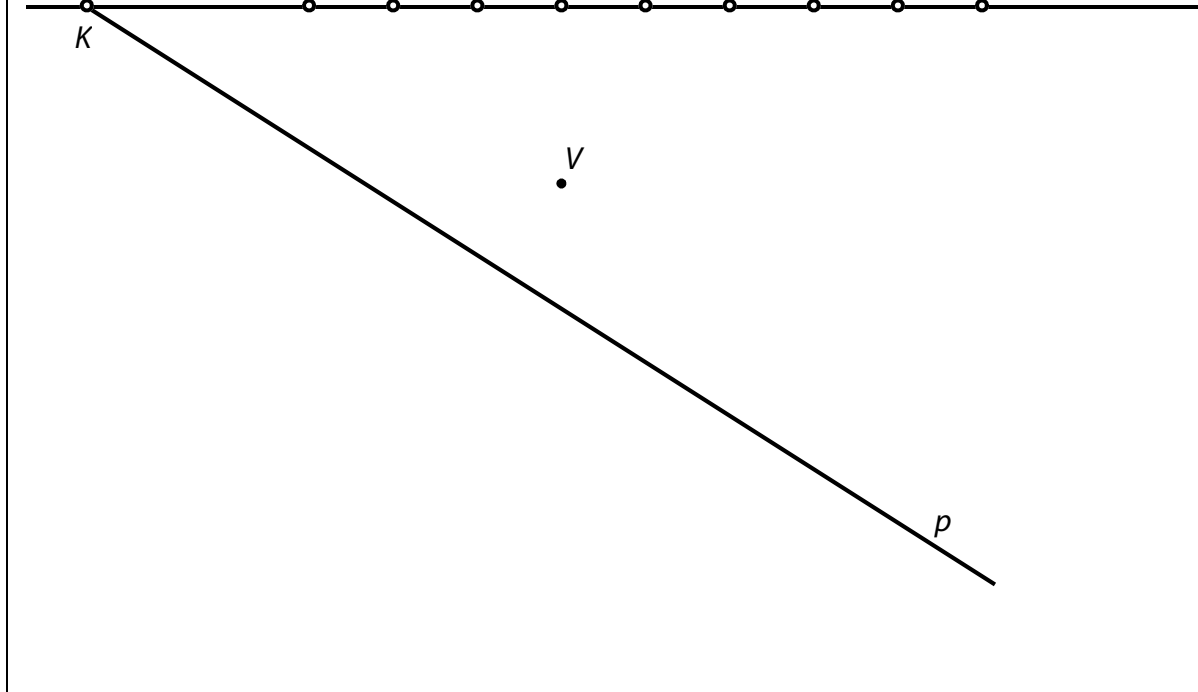
2 body

**17** Jaká je největší možná délka seříznuté špejle? (Tloušťka špejle se při výpočtu zanedbává.)

- A) 17 cm
- B) 18 cm
- C) 19 cm
- D) 20 cm
- E) 21 cm

### VÝCHOZÍ TEXT A OBRÁZEK K ÚLOZE 18

Martin bydlí v ulici  $m$ , pravděpodobně v některém z domů  $A$  až  $D$ . Bratranec Petr bydlí ve druhé ulici  $p$ . Chlapci by na sebe viděli z oken svých domovů, kdyby jim ve výhledu nepřekážela věž  $V$ , k níž to mají vzdušnou čarou stejně daleko.



(CERMAT)

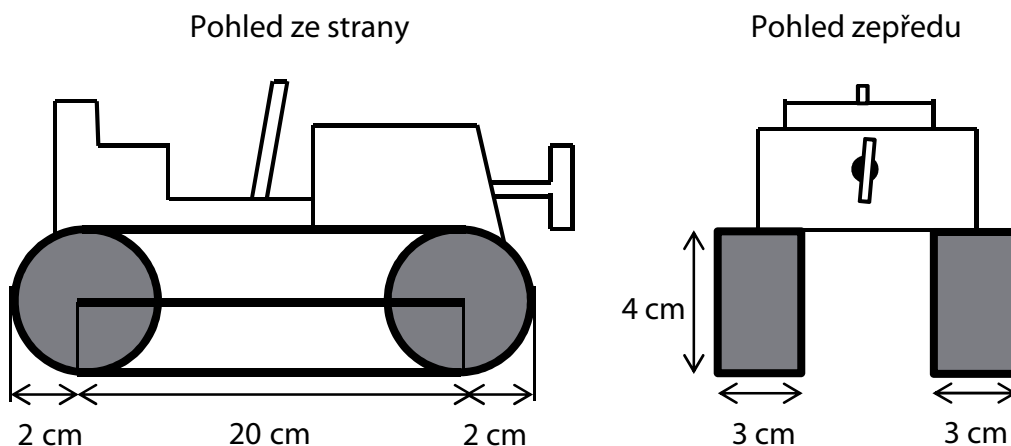
2 body

#### 18 Ve kterém domě bydlí Martin?

- A) v domě  $A$
- B) v domě  $B$
- C) v domě  $C$
- D) v domě  $D$
- E) v některém z dalších zobrazených domů

### VÝCHOZÍ TEXT A OBRÁZEK K ÚLOZE 19

Pásový traktůrek na klíček se pohybuje pomocí dvou pásů. Každý pás je napnutý přes dvě shodná kola. Vnější plocha pásu je černá a vnitřní je bílá, tloušťka pásu se zanedbává.



(CERMAT)

2 body

19 Jaký je obsah černé plochy jednoho pásu?

- A)  $4 \cdot (\pi + 10) \text{ cm}^2$
- B)  $6 \cdot (\pi + 20) \text{ cm}^2$
- C)  $6 \cdot (3\pi + 20) \text{ cm}^2$
- D)  $12 \cdot (\pi + 5) \text{ cm}^2$
- E)  $12 \cdot (\pi + 10) \text{ cm}^2$

2 body

- 20 Čtverec  $ABCD$  s úhlopříčkou  $AC$  je umístěn v kartézské soustavě souřadnic  $Oxy$ . Platí:

$$A[-4; 0], \overline{AC} = (6; 4)$$

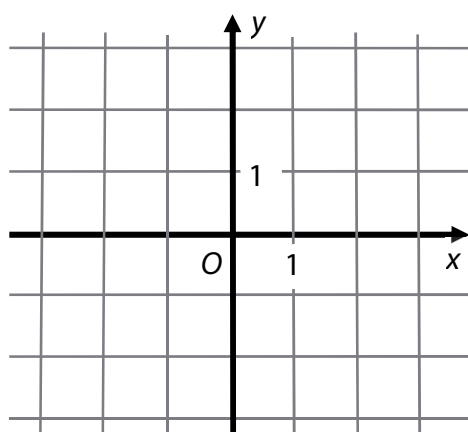
Jaké jsou souřadnice středu  $S$  čtverce  $ABCD$ ?

- A)  $S[1; 2]$
- B)  $S[3; 2]$
- C)  $S[2; 4]$
- D)  $S[-1; 2]$
- E)  $S[5; -2]$

---

**VÝCHOZÍ TEXT A OBRÁZEK K ÚLOZE 21**

Jsou dány body  $A[-2; 3], B[-2; -3]$ .



(CERMAT)

2 body

- 21 Jakou rovnicí má osa  $o$  úsečky  $AB$ ?

- A)  $x + 6y = 0$
- B)  $4x - 6y = 0$
- C)  $y = 0$
- D)  $x = -2$
- E) jinou rovnicí

## VÝCHOZÍ TEXT K ÚLOZE 22

Čtyři pracovníci si rozdělili výdělek následujícím způsobem: první dostal pětinu celkové částky, zbývající tři pracovníci si rozdělili zbytek na tři stejné části.

(CERMAT)

**2 body**

**22 V jakém poměru jsou částky prvního a druhého pracovníka v tomto pořadí?**

- A) 3 : 4
- B) 4 : 5
- C) 5 : 4
- D) 5 : 3
- E) 3 : 2

---

**2 body**

**23 Druhý a třetí člen geometrické posloupnosti je  $a_2 = 12$ ,  $a_3 = 18$ .**

**Jaký je součet prvních čtyř členů této posloupnosti ( $a_1 + a_2 + a_3 + a_4$ )?**

- A) 60
- B) 64
- C) 65
- D) 72
- E) jiný součet

## VÝCHOZÍ TEXT K ÚLOZE 24

Učitel má nominovat 4 chlapce ze třídy do smíšeného volejbalového týmu. Ve třídě je včetně Petra 14 chlapců. Jedním z členů týmu bude Petr a ostatní chlapci se vyberou losem.

(CERMAT)

**2 body**

**24 Kolik různých týmů je možné za těchto podmínek sestavit?**

- A)  $\binom{14}{3}$
- B)  $\binom{13}{3}$
- C)  $1 + 13 + 12 + 11$
- D)  $13 \cdot 12 \cdot 11$
- E) jiný počet

**max. 4 body**

**25 Přiřadte každému výrazu (25.1–25.4) s reálnou proměnnou  $x$  definiční obor výrazu (A–F).**

25.1  $\log x$  \_\_\_\_\_

25.2  $2^x$  \_\_\_\_\_

25.3  $\frac{1}{x+2} \cdot \frac{x+2}{2}$  \_\_\_\_\_

25.4  $\frac{x^2}{\sqrt{4} \cdot x}$  \_\_\_\_\_

- A) **R**
- B)  $(0; +\infty)$
- C)  $(2; +\infty)$
- D)  $(-\infty; 0) \cup (0; +\infty)$
- E)  $(-\infty; 2) \cup (2; +\infty)$
- F) jiná množina

**26** Přiřadte ke každému vztahu (26.1–26.3) odpovídající vyjádření veličiny  $a$  (A–E), kde  $a, b \in \mathbb{R}$ .

26.1  $b - 2a = 1 - 3a$  \_\_\_\_\_

26.2  $2a - b = b - 2$  \_\_\_\_\_

26.3  $\frac{2a - b}{2} = a + 1$  \_\_\_\_\_

A)  $a = b - 1$

B)  $a = b + 1$

C)  $a = 1 - b$

D)  $a = b + 2$

E) Žádné z uvedených vyjádření nevyhovuje.

---

**ZKONTROLUJTE, ZDA JSTE DO ZÁZNAMOVÉHO ARCHU UVEDL/A VŠECHNY ODPOVĚDI.**

---